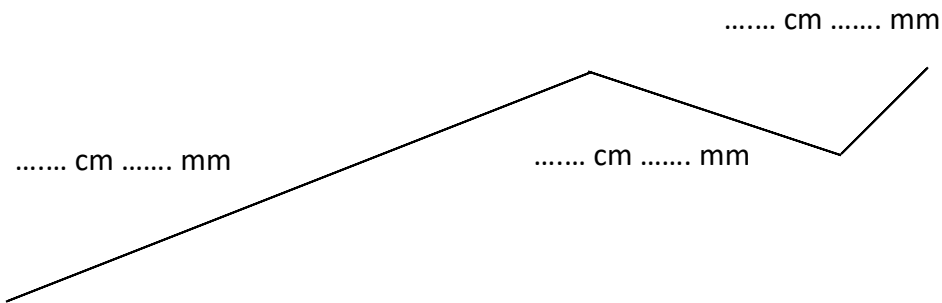


Übung 1:

1- Messe jeden Teil von dieser gebrochenen Linie :




2- Wie lang ist die ganze Linie ?

Schreibe die ganze Länge auf : . . . cm und . . . mm

Schreibe die Länge nur in Millimeter : . . . mm

Übung 2:

1- Messe die Konturen von dieser Figur :



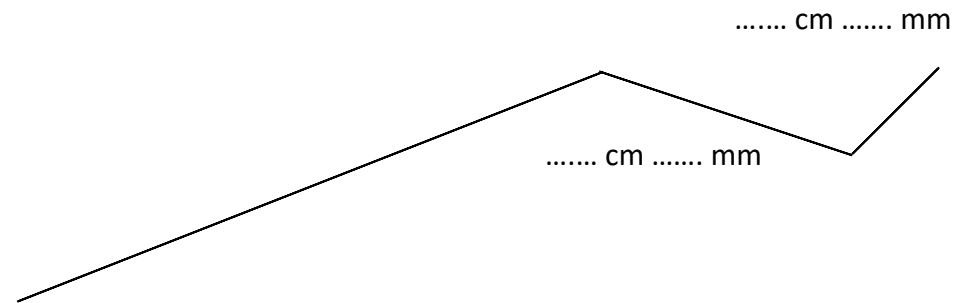
Schreibe die ganze Länge auf : . . . cm und . . . mm

Schreibe die Länge nur in Millimeter : . . . mm

Schreibe die Länge nur in Dezimeter : . . . dm

Übung 1:

3- Messe jeden Teil von dieser gebrochenen Linie :




4- Wie lang ist die ganze Linie ?

Schreibe die ganze Länge auf : . . . cm und . . . mm

Schreibe die Länge nur in Millimeter : . . . mm

Übung 2:

2- Messe die Konturen von dieser Figur :



Schreibe die ganze Länge auf : . . . cm und . . . mm

Schreibe die Länge nur in Millimeter : . . . mm

Schreibe die Länge nur in Dezimeter : . . . dm